



Determine if the angle shown is 'less', 'more' or 'equal' to 90°.

Answers

Ex)



1)



2)



Ex. **equal**

1. _____

2. _____

3)



4)



5)

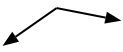


3. _____

4. _____

5. _____

6)



7)



8)



6. _____

7. _____

8. _____

9)



10)



11)



9. _____

10. _____

11. _____

12)



13)



14)



12. _____

13. _____

14. _____

15)



16)



17)



15. _____

16. _____

17. _____

18)



19)



20)



18. _____

19. _____

20. _____



Determine if the angle shown is 'less', 'more' or 'equal' to 90°.

Ex)



1)



2)



<u>Answers</u>	
Ex.	equal
1.	equal
2.	less
3.	less
4.	equal
5.	equal
6.	more
7.	more
8.	less
9.	more
10.	equal
11.	more
12.	less
13.	more
14.	equal
15.	less
16.	more
17.	equal
18.	less
19.	equal
20.	less

3)



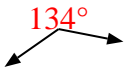
4)



5)



6)



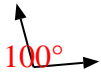
7)



8)



9)



10)



11)



12)



13)



14)



15)



16)



17)



18)



19)



20)

